



PONDOK
IBU

Penjumlahan Dan Pengurangan Matematika

Seri Media Pembelajaran

Copyright©2016|PondokIbu.com

PERHATIAN!

Anda boleh menyebarkan E-Book ini kepada siapapun, bahkan menjualnya dengan keuntungan 100% untuk anda. Namun anda **TIDAK BOLEH** mengubah atau mengedit isi E-Book ini.

lembar kerja ini bisa anda peroleh secara **GRATIS** di :

www.PondokIbu.com

PENGANTAR

Assalamu'alaikum!

Senang rasanya dapat menemani si kecil belajar kembali. Nah, kali ini, kami hadir dengan menyuguhkan E-Book seri media pembelajaran anak berisi tentang penjumlahan dan pengurangan dalam matematika dengan judul, **“Penjumlahan dan Pengurangan Matematika”**

Jangan lupa, ingatkan putra-putri Anda untuk membaca Basmalah sebelum memulai dan mengucapkan Hamdalah setelah membacanya. Semoga diberi kemudahan oleh Allah dalam mencari ilmu yang bermanfaat.

Selamat belajar, ya!













Wassalamu'alaikum

Yogyakarta, November 2016

Pondok Ibu

Lengkapilah persoalan penjumlahan matematika dibawah ini dengan jawaban yang benar!

Selamat belajar...

1		+		=	<input type="text"/>
2		+		=	<input type="text"/>
3		+		=	<input type="text"/>
4		+		=	<input type="text"/>
5		+		=	<input type="text"/>
6		+		=	<input type="text"/>

Lengkapilah persoalan penjumlahan matematika dibawah ini dengan jawaban yang benar!


Selamat belajar...

7



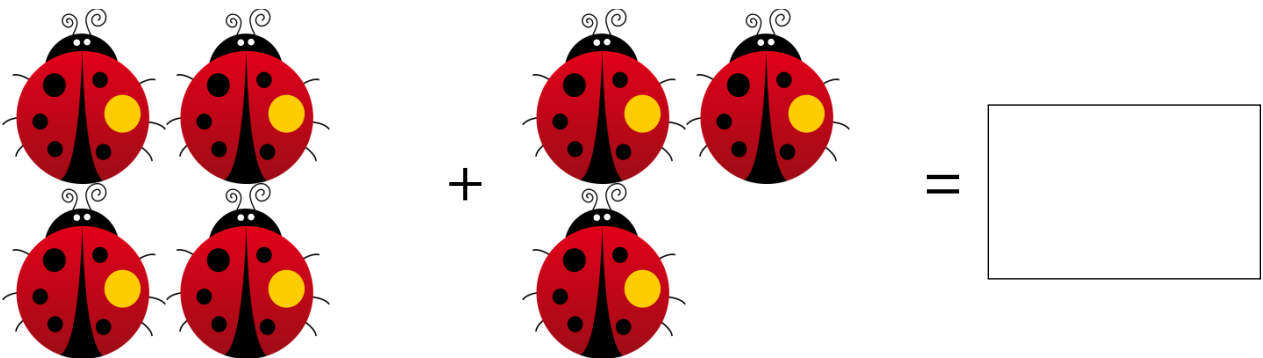
$3 + 3 = \square$

8




$4 + 4 = \square$

9



$4 + 3 = \square$

10




$3 + 2 = \square$


Lengkapilah persoalan pengurangan matematika dibawah ini dengan jawaban yang benar!

Selamat belajar...

1

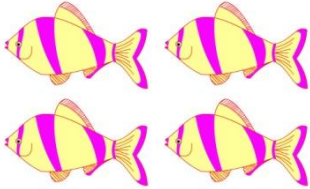


-

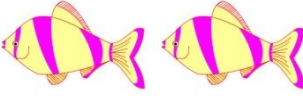


=

2




-




=

3




-




=

4




-




=

5



-



=

Lengkapilah persoalan pengurangan matematika dibawah ini dengan jawaban yang benar!



Selamat belajar...

6  -  =

7  -  =


8  -  =

9  -  =

10  -  =