


GAMBAR MANA YANG LEBIH PANJANG DAN PENDEK

Petunjuk: Lingkarilah pada angka di atas gambar, manakah yang lebih **panjang** dilihat dari ukuran pada penggaris?




Petunjuk: Lingkarilah pada angka di atas gambar, manakah yang lebih **pendek** dilihat dari ukuran pada penggaris?




Petunjuk: Lingkarilah pada angka di atas gambar, manakah yang lebih **panjang** dilihat dari ukuran pada penggaris?

1



2



BEST SELLER

PUZZLE FOTO PRIBADI

EKSKLUSIF UNTUK SANG BUAH HATI!!!

imaji
Belajar itu Bermain

ANGRY BIRDS GO!
JASON

ARFAN

Barbie
HALIZA

 **pondokibu.com**
081 328 873 888
PIN: 26 B7 07 1B