

2014

PANDUAN BELAJAR
MATEMATIKA
DASAR

SERI MEDIA
PEMBELAJARAN

www.pondokibu.com

©2014

PERHATIAN!

Anda boleh menyebarkan ebook ini kepada siapapun, bahkan menjualnya dengan keuntungan 100 % untuk Anda. Namun, Anda **TIDAK BOLEH** mengubah atau mengedit isi ebook ini.

Lembar Kerja ini dapat Anda dapatkan **GRATIS** di :

www.pondokibu.com

PENGANTAR

Assalamu'alaikum!

Senang rasanya dapat menemani si kecil belajar kembali. Nah, kali ini, kami hadir dengan menyuguhkan lembar kerja matematika yang berisi soal-soal latihan yang dapat membantu putra-putri Anda untuk lebih giat belajar.

Jangan lupa, ingatkan putra-putri Anda untuk membaca Basmalah sebelum memulai dan mengucapkan Hamdalah setelah mengerjakannya. Semoga diberi kemudahan oleh Allah dalam mencari ilmu yang bermanfaat.

Selamat belajar, ya!

Wassalamu'alaikum

Yogyakarta, Januari 2014

Pondok Ibu

MENGENAL ANGKA 1 SAMPAI 100

Perhatikanlah tabel angka berikut! Tabel ini berisi urutan angka 1 sampai 100

1	2	3	4	5	6	7	8	9	10
11	12	13	14	15	16	17	18	19	20
21	22	23	24	25	26	27	28	29	30
31	32	33	34	35	36	37	38	39	40
41	42	43	44	45	46	47	48	49	50
51	52	53	54	55	56	57	58	59	60
61	62	63	64	65	66	67	68	69	70
71	72	73	74	75	76	77	78	79	80
81	82	83	84	85	86	87	88	89	90
91	92	93	94	95	96	97	98	99	100

MELENGKAPI TABEL ANGKA

Petunjuk: Lihatlah kotak-kotak di bawah ini. Ternyata ada yang masih kosong! Isilah kotak-kotak yang kosong itu dengan angka yang sesuai dengan urutannya! (Tanda merah adalah contoh)

1	2	3	4	5	6	7		9	10
	12		14	15		17	18		20
21	22		24				28	29	30
31	32	33		35		37			
	42		44	45	46			49	50
51	52		54			57	58		60
61		63		65			68	69	70
			74	75	76	77		79	
81	82		84		86			89	90
91		93			96		98	99	100

MELENGKAPI TABEL ANGKA

Petunjuk: Tentu sekarang kamu sudah mengenal angka 1 sampai 100 bukan? Sekarang, coba tuliskan angka 1-100 secara urut di tabel kosong bawah ini!

MEMASUKKAN ANGKA YANG TERLUPA

Petunjuk: Coba perhatikan angka di bawah ini. Ternyata masih ada yang terlupa. Coba sekarang isikan angka yang terlupa itu. Bisa kan? (Yang dilingkari adalah contoh)

1, 2, 3, 4, _____, 6, 7, 8, 9, 10

_____, 2, _____, 4, _____, 6, _____, 8

5, _____, 7, _____, 9, _____, 11 _____

1, _____, 3, _____, 5, 6, _____, 8, 9

_____, 2, _____, _____, 5, _____, _____

MEMASUKKAN ANGKA YANG TERLUPA

Petunjuk: Coba perhatikan angka di bawah ini. Ternyata masih ada yang terlupa. Coba sekarang isikan angka yang terlupa itu. Bisa kan? (Yang dilingkari adalah contoh)

1, _____, 3, 4, 5, 6, 7, 8, 9, 10

1, 2, 3, 4, _____, 6, 7, 8, _____, 10

1, _____, 3, _____, 5, _____, 7, _____


1, 2, 3, _____, 5, 6, _____, 8, 9, 10

_____, 2, 3, 4, _____, 6, 7, 8, 9, _____


MATEMATIKA GAMBAR

Petunjuk: Gambarlah berbagai benda macam sesuai jumlah yang diperintahkan! Gambar yang ada di dalam kotak hanyalah contoh gambar, tidak masuk hitungan.

Gambarlah 2 jeruk!



Gambarlah 7 pensil!



Gambarlah 3 apel!




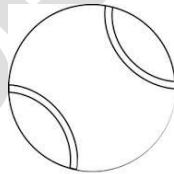
Gambarlah 5 buku tulis!



Gambarlah 9 batu!



Gambarlah 4 bola!



Gambarlah 6 pohon!



Gambarlah 10 bunga!

