

PANDUAN BELAJAR MATEMATIKA

Volume 3

www.pondokibu.com



2014

PENGANTAR

Assalamu'alaikum!

Senang rasanya dapat menemani si kecil belajar kembali. Nah, kali ini, kami hadir dengan menyuguhkan lembar kerja matematika yang berisi soal-soal latihan yang dapat membantu putra-putri Anda untuk lebih giat belajar.

Jangan lupa, ingatkan putra-putri Anda untuk membaca Basmalah sebelum memulai dan mengucapkan Hamdalah setelah mengerjakannya. Semoga diberi kemudahan oleh Allah dalam mencari ilmu yang bermanfaat.

Selamat belajar, ya!

Wassalamu'alaikum













Yogyakarta, Januari 2014

Pondok Ibu

NOTE : Anda diperbolehkan membagikan dan memberikan Lembar Kerja ini pada siapapun yang membutuhkan, atau bahkan menjualnya dengan keuntungan 100% untuk Anda. Tapi, Anda **TIDAK BERHAK** mengubah atau mengedit Lembar Kerja ini dalam bentuk apapun.

MATEMATIKA PINGUIN

Petunjuk : Hitunglah jumlah penguin yang ada dalam kotak dan tuliskan angkanya!

<p>1.</p>  5  + 1 <hr style="width: 100px; margin-left: auto; margin-right: 0;"/> <div style="border: 1px solid black; width: 100px; height: 50px; margin-left: auto; margin-right: 0;"></div>	<p>2.</p>  4  + 2 <hr style="width: 100px; margin-left: auto; margin-right: 0;"/> <div style="border: 1px solid black; width: 100px; height: 50px; margin-left: auto; margin-right: 0;"></div>
<p>3.</p>  7  + 2 <hr style="width: 100px; margin-left: auto; margin-right: 0;"/> <div style="border: 1px solid black; width: 100px; height: 50px; margin-left: auto; margin-right: 0;"></div>	<p>4.</p>  6  + 1 <hr style="width: 100px; margin-left: auto; margin-right: 0;"/> <div style="border: 1px solid black; width: 100px; height: 50px; margin-left: auto; margin-right: 0;"></div>
<p>5.</p>  7  + 1 <hr style="width: 100px; margin-left: auto; margin-right: 0;"/> <div style="border: 1px solid black; width: 100px; height: 50px; margin-left: auto; margin-right: 0;"></div>	<p>6.</p>  6  + 2 <hr style="width: 100px; margin-left: auto; margin-right: 0;"/> <div style="border: 1px solid black; width: 100px; height: 50px; margin-left: auto; margin-right: 0;"></div>

TAMBAHKAN!

Petunjuk: Tambahkan bilangan-bilangan dengan yang di atasnya!

1. $\begin{array}{r} 7 \\ + \quad 3 \\ \hline \square \end{array}$	2. $\begin{array}{r} 4 \\ + \quad 2 \\ \hline \square \end{array}$
3. $\begin{array}{r} 7 \\ + \quad 4 \\ \hline \square \end{array}$	4. $\begin{array}{r} 9 \\ + \quad 3 \\ \hline \square \end{array}$
5. $\begin{array}{r} 8 \\ + \quad 7 \\ \hline \square \end{array}$	6. $\begin{array}{r} 6 \\ + \quad 4 \\ \hline \square \end{array}$
7. $\begin{array}{r} 3 \\ + \quad 3 \\ \hline \square \end{array}$	8. $\begin{array}{r} 5 \\ + \quad 2 \\ \hline \square \end{array}$
9. $\begin{array}{r} 9 \\ + \quad 2 \\ \hline \square \end{array}$	10. $\begin{array}{r} 8 \\ + \quad 4 \\ \hline \square \end{array}$

TAMBAHKAN!

Petunjuk : Tambahkan bilangan-bilangan dengan yang di atasnya!

1. $\begin{array}{r} 6 \\ + \quad 5 \\ \hline \square \end{array}$	2. $\begin{array}{r} 5 \\ + \quad 7 \\ \hline \square \end{array}$
3. $\begin{array}{r} 5 \\ + \quad 8 \\ \hline \square \end{array}$	4. $\begin{array}{r} 9 \\ + \quad 6 \\ \hline \square \end{array}$
5. $\begin{array}{r} 3 \\ + \quad 6 \\ \hline \square \end{array}$	6. $\begin{array}{r} 5 \\ + \quad 7 \\ \hline \square \end{array}$
7. $\begin{array}{r} 4 \\ + \quad 5 \\ \hline \square \end{array}$	8. $\begin{array}{r} 5 \\ + \quad 8 \\ \hline \square \end{array}$
9. $\begin{array}{r} 7 \\ + \quad 8 \\ \hline \square \end{array}$	10. $\begin{array}{r} 9 \\ + \quad 6 \\ \hline \square \end{array}$

TAMBAHKAN!

Petunjuk : Tambahkan bilangan-bilangan dengan yang di atasnya!

1. $\begin{array}{r} 17 \\ + 10 \\ \hline \end{array}$ <input type="text"/>	2. $\begin{array}{r} 19 \\ + 11 \\ \hline \end{array}$ <input type="text"/>
3. $\begin{array}{r} 21 \\ + 9 \\ \hline \end{array}$ <input type="text"/>	4. $\begin{array}{r} 26 \\ + 12 \\ \hline \end{array}$ <input type="text"/>
5. $\begin{array}{r} 34 \\ + 9 \\ \hline \end{array}$ <input type="text"/>	6. $\begin{array}{r} 27 \\ + 10 \\ \hline \end{array}$ <input type="text"/>
7. $\begin{array}{r} 44 \\ + 11 \\ \hline \end{array}$ <input type="text"/>	8. $\begin{array}{r} 41 \\ + 12 \\ \hline \end{array}$ <input type="text"/>
9. $\begin{array}{r} 37 \\ + 10 \\ \hline \end{array}$ <input type="text"/>	10. $\begin{array}{r} 48 \\ + 9 \\ \hline \end{array}$ <input type="text"/>

TAMBAHKAN!

Petunjuk : Tambahkan bilangan-bilangan dengan yang di atasnya!

1. $\begin{array}{r} 42 \\ + 31 \\ \hline \end{array}$ <input type="text"/>	2. $\begin{array}{r} 57 \\ + 27 \\ \hline \end{array}$ <input type="text"/>
3. $\begin{array}{r} 41 \\ + 23 \\ \hline \end{array}$ <input type="text"/>	4. $\begin{array}{r} 30 \\ + 10 \\ \hline \end{array}$ <input type="text"/>
5. $\begin{array}{r} 42 \\ + 12 \\ \hline \end{array}$ <input type="text"/>	6. $\begin{array}{r} 35 \\ + 42 \\ \hline \end{array}$ <input type="text"/>
7. $\begin{array}{r} 43 \\ + 17 \\ \hline \end{array}$ <input type="text"/>	8. $\begin{array}{r} 36 \\ + 28 \\ \hline \end{array}$ <input type="text"/>
9. $\begin{array}{r} 41 \\ + 38 \\ \hline \end{array}$ <input type="text"/>	10. $\begin{array}{r} 35 \\ + 15 \\ \hline \end{array}$ <input type="text"/>

TAMBAHKAN!

Petunjuk : tambahkan bilangan-bilangan dengan yang di atasnya

1. $\begin{array}{r} 38 \\ + \quad 52 \\ \hline \square \end{array}$	2. $\begin{array}{r} 74 \\ + \quad 28 \\ \hline \square \end{array}$
3. $\begin{array}{r} 98 \\ + \quad 92 \\ \hline \square \end{array}$	4. $\begin{array}{r} 76 \\ + \quad 12 \\ \hline \square \end{array}$
5. $\begin{array}{r} 35 \\ + \quad 53 \\ \hline \square \end{array}$	6. $\begin{array}{r} 55 \\ + \quad 44 \\ \hline \square \end{array}$
7. $\begin{array}{r} 68 \\ + \quad 21 \\ \hline \square \end{array}$	8. $\begin{array}{r} 38 \\ + \quad 91 \\ \hline \square \end{array}$
9. $\begin{array}{r} 24 \\ + \quad 31 \\ \hline \square \end{array}$	10. $\begin{array}{r} 82 \\ + \quad 31 \\ \hline \square \end{array}$

TAMBAHKAN!

Petunjuk : Tambahkan bilangan-bilangan dengan yang di atasnya!

1. $\begin{array}{r} 351 \\ + \quad 25 \\ \hline \square \end{array}$	2. $\begin{array}{r} 362 \\ + \quad 28 \\ \hline \square \end{array}$
3. $\begin{array}{r} 378 \\ + \quad 21 \\ \hline \square \end{array}$	4. $\begin{array}{r} 421 \\ + \quad 32 \\ \hline \square \end{array}$
5. $\begin{array}{r} 385 \\ + \quad 26 \\ \hline \square \end{array}$	6. $\begin{array}{r} 521 \\ + \quad 21 \\ \hline \square \end{array}$
7. $\begin{array}{r} 412 \\ + \quad 21 \\ \hline \square \end{array}$	8. $\begin{array}{r} 555 \\ + \quad 55 \\ \hline \square \end{array}$
9. $\begin{array}{r} 351 \\ + \quad 22 \\ \hline \square \end{array}$	10. $\begin{array}{r} 375 \\ + \quad 37 \\ \hline \square \end{array}$

TAMBAHKAN!

Petunjuk : Tambahkan bilangan-bilangan dengan yang di atasnya!

1. $\begin{array}{r} 421 \\ + 321 \\ \hline \square \end{array}$	2. $\begin{array}{r} 241 \\ + 254 \\ \hline \square \end{array}$
3. $\begin{array}{r} 351 \\ + 241 \\ \hline \square \end{array}$	4. $\begin{array}{r} 735 \\ + 115 \\ \hline \square \end{array}$
5. $\begin{array}{r} 562 \\ + 374 \\ \hline \square \end{array}$	6. $\begin{array}{r} 231 \\ + 212 \\ \hline \square \end{array}$
7. $\begin{array}{r} 457 \\ + 235 \\ \hline \square \end{array}$	8. $\begin{array}{r} 712 \\ + 217 \\ \hline \square \end{array}$
9. $\begin{array}{r} 254 \\ + 223 \\ \hline \square \end{array}$	10. $\begin{array}{r} 241 \\ + 321 \\ \hline \square \end{array}$

TAMBAHKAN!

Petunjuk : Tambahkan bilangan-bilangan dengan yang di atasnya!

1. $\begin{array}{r} 11 \\ + 11 \\ \hline \square \end{array}$	2. $\begin{array}{r} 19 \\ + 19 \\ \hline \square \end{array}$
3. $\begin{array}{r} 12 \\ + 12 \\ \hline \square \end{array}$	4. $\begin{array}{r} 13 \\ + 13 \\ \hline \square \end{array}$
5. $\begin{array}{r} 17 \\ + 17 \\ \hline \square \end{array}$	6. $\begin{array}{r} 15 \\ + 15 \\ \hline \square \end{array}$
7. $\begin{array}{r} 21 \\ + 21 \\ \hline \square \end{array}$	8. $\begin{array}{r} 14 \\ + 14 \\ \hline \square \end{array}$
9. $\begin{array}{r} 18 \\ + 18 \\ \hline \square \end{array}$	10. $\begin{array}{r} 20 \\ + 20 \\ \hline \square \end{array}$

TAMBAHKAN!

Petunjuk : Tambahkan bilangan-bilangan dengan yang di atasnya!

1. $\begin{array}{r} 33 \\ + 33 \\ \hline \square \end{array}$	2. $\begin{array}{r} 31 \\ + 31 \\ \hline \square \end{array}$
3. $\begin{array}{r} 52 \\ + 52 \\ \hline \square \end{array}$	4. $\begin{array}{r} 38 \\ + 38 \\ \hline \square \end{array}$
5. $\begin{array}{r} 44 \\ + 44 \\ \hline \square \end{array}$	6. $\begin{array}{r} 74 \\ + 74 \\ \hline \square \end{array}$
7. $\begin{array}{r} 67 \\ + 67 \\ \hline \square \end{array}$	8. $\begin{array}{r} 39 \\ + 39 \\ \hline \square \end{array}$
9. $\begin{array}{r} 47 \\ + 47 \\ \hline \square \end{array}$	10. $\begin{array}{r} 40 \\ + 40 \\ \hline \square \end{array}$

LINGKARI AKU

Petunjuk : Lingkarilah angka yang PALING BESAR jumlahnya pada tiap kotak!

Contoh:



1.	14	12	17	18	4
2.	11	12	8	19	20
3.	13	12	2	14	11
4.	4	8	1	5	7
5.	7	18	2	1	19
6.	16	13	12	17	11
7.	8	2	11	1	8
8.	2	7	8	11	9
9.	8	20	12	17	18
10.	2	13	10	18	19
11.	3	4	5	7	9
12.	11	13	14	15	16
13.	11	14	12	10	13
14.	16	11	15	2	4