

PANDUAN BELAJAR MATEMATIKA

Volume 2

www.pondokibu.com



2014

PENGANTAR

Assalamu'alaikum!

Senang rasanya dapat menemani si kecil belajar kembali. Nah, kali ini, kami hadir dengan menyuguhkan lembar kerja matematika yang berisi soal-soal latihan yang dapat membantu putra-putri Anda untuk lebih giat belajar.

Jangan lupa, ingatkan putra-putri Anda untuk membaca Basmalah sebelum memulai dan mengucapkan Hamdalah setelah mengerjakannya. Semoga diberi kemudahan oleh Allah dalam mencari ilmu yang bermanfaat.

Selamat belajar, ya!

Wassalamu'alaikum














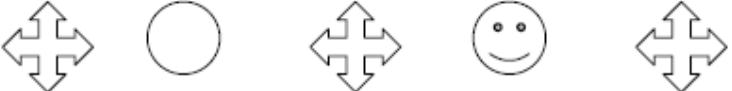



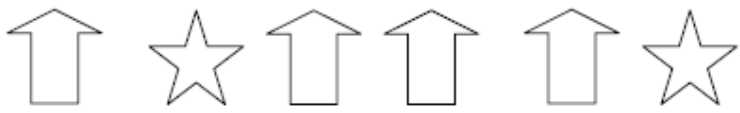

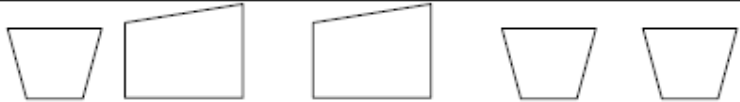
Yogyakarta, Januari 2014

Pondok Ibu

NOTE : Anda diperbolehkan membagikan dan memberikan Lembar Kerja ini pada siapapun yang membutuhkan, atau bahkan menjualnya dengan keuntungan 100% untuk Anda. Tapi, Anda **TIDAK BERHAK** mengubah atau mengedit Lembar Kerja ini dalam bentuk apapun.


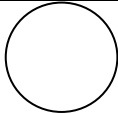














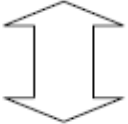



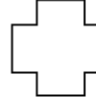
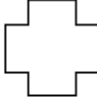
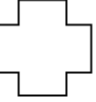
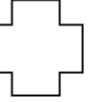
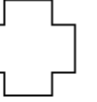

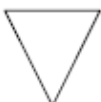
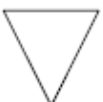
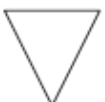

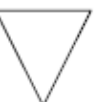
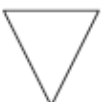
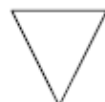








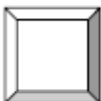
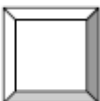


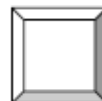






ADA BERAPA BANYAK??

Petunjuk : Tulis angka pada garis yang menunjukkan jumlah gambar yang diminta

1. _____		
2. _____		
3. _____		
4. _____		
5. _____		
6. _____		
7. _____		
8. _____		
9. _____		
10. _____		



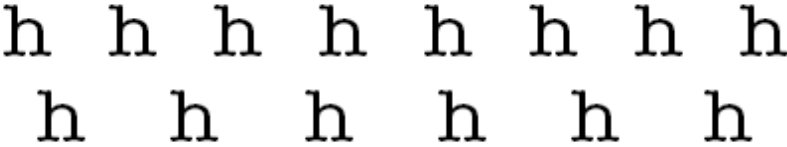
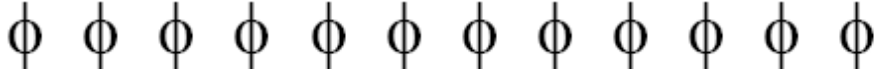
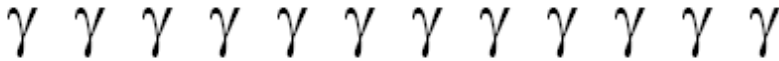
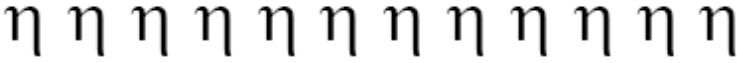
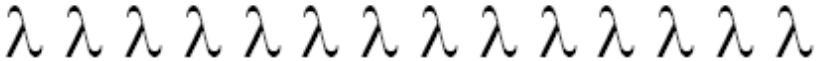
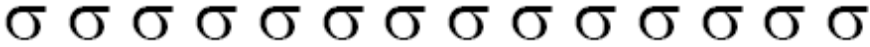

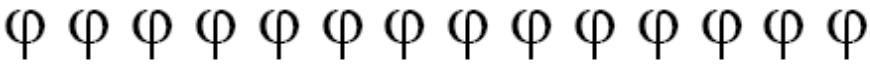
ADA BERAPA BANYAK??

Petunjuk : Tulis angka pada garis yang menunjukkan jumlah gambar kotak sebelah kanannya!

CONTOH: <u>2</u> 	 
1. _____ 	   
2. _____ 	   
3. _____ 	    
4. _____ 	     
5. _____ 	     
6. _____ 	      
7. _____ 	   
8. _____ 	    

LINGKARI AKU!

Petunjuk : Gambarlah lingkaran yang menunjukkan jumlah yang diminta!

Angka yang diminta: 2	
14	
12	
8	
7	
3	
11	
4	
5	
6	

SIAPA SEBELUM AKU?

Petunjuk : Tuliskan pada kotak, angka yang datang sebelum angka yang tertulis!

Contoh:

15 , **16**

1. <input type="text"/> , 20	2. <input type="text"/> , 2
3. <input type="text"/> , 12	4. <input type="text"/> , 18
5. <input type="text"/> , 8	6. <input type="text"/> , 19
7. <input type="text"/> , 13	8. <input type="text"/> , 5
9. <input type="text"/> , 17	10. <input type="text"/> , 7
11. <input type="text"/> , 15	12. <input type="text"/> , 10
13. <input type="text"/> , 14	14. <input type="text"/> , 6
15. <input type="text"/> , 9	16. <input type="text"/> , 3

SIAPA SETELAHKU?

Petunjuk : tuliskan angka pada kotak yang datang setelah angka yang tertulis

Contoh:

7,

8

1. 12, <input type="text"/>	2. 8, <input type="text"/>
3. 9, <input type="text"/>	4. 2, <input type="text"/>
5. 11, <input type="text"/>	6. 10, <input type="text"/>
7. 15, <input type="text"/>	8. 19, <input type="text"/>
9. 13, <input type="text"/>	10. 4, <input type="text"/>
11. 1, <input type="text"/>	12. 14, <input type="text"/>
13. 6, <input type="text"/>	14. 5, <input type="text"/>
15. 18, <input type="text"/>	16. 16, <input type="text"/>

MASUKKAN AKU...! MASUKKAN AKU...!

Petunjuk : Isikan tempat yang kosong dengan angka urutannya!

Contoh: 13 14 15 16

1. 1 ___ 3 ___ 5 ___ 7 ___ 9

2. 7 ___ ___ 10 11 ___ 13 ___

3. 5 ___ 7 ___ 9 ___ ___ ___ 13

4. 8 ___ ___ 11 ___ 13 ___ 15 ___

5. ___ ___ 5 ___ ___ 8 ___ 10 ___ ___

6. 10 ___ ___ ___ 14 ___ ___ 17 ___

7. 1 ___ ___ ___ 5 ___ 7 ___ 9 ___ 11

8. 8 ___ ___ ___ 12 ___ ___ 15 ___

9. 3 ___ ___ ___ 7 ___ ___ 10 ___ ___

MASUKKAN AKU...! MASUKKAN AKU...!

Petunjuk : isikan tempat yang kosong dengan angka urutannya!

1. 7 ___ 9 ___ 11 ___ 13 ___ 15

2. 8 ___ ___ 11 12 ___ 14 ___ 16

3. 9 ___ 11 ___ 13 ___ ___ ___ 17

4. 8 ___ ___ 11 ___ 13 ___ 15 ___

5. 7 ___ 9 ___ ___ ___ ___ 14 ___

6. 11 ___ ___ 14 ___ 16 17 ___ ___

7. 3 ___ ___ ___ 7 ___ ___ 10 ___ ___

8. ___ ___ ___ ___ 14 ___ ___ 17 ___

9. 3 ___ ___ ___ ___ ___ ___ 10 ___

SIAPA DI SAMPINGKU?

Petunjuk : Isilah kotak yang kosong dengan angka yang datang sebelum dan yang datang sesudah angka yang tertera!

Angka Sebelumnya	Angka	Angka Setelahnya
3	4	5
1.	7	
2.	8	
3.	3	
4.	5	
5.	2	
6.	6	
7.	9	


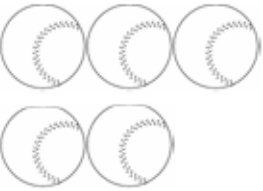

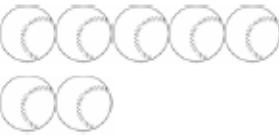
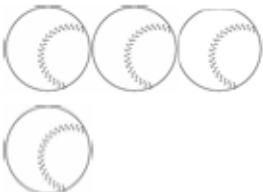
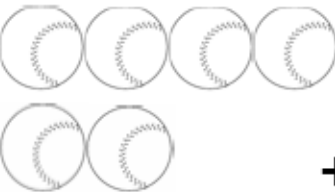
SIAPA DI SAMPINGKU?

Petunjuk : Isilah kotak yang kosong dengan angka yang datang sebelum dan yang datang sesudah angka yang tertera!

Angka Sebelumnya	Angka	Angka Setelahnya
11	12	13
1.	18	
2.	9	
3.	17	
4.	15	
5.	4	
6.	11	
7.	16	
8.	8	
9.	6	
10.	19	
11.	13	
12.	2	
13.	14	

BERHITUNG BOLA

Petunjuk : Hitunglah bola-bola berikut dan tuliskan angkanya!

<p>1.</p>  $\begin{array}{r} 5 \\ + 1 \\ \hline \square \end{array}$	<p>2.</p>  $\begin{array}{r} 3 \\ + 2 \\ \hline \square \end{array}$
<p>3.</p>  $\begin{array}{r} 8 \\ + 1 \\ \hline \square \end{array}$	<p>4.</p>  $\begin{array}{r} 5 \\ + 2 \\ \hline \square \end{array}$
<p>5.</p>  $\begin{array}{r} 3 \\ + 1 \\ \hline \square \end{array}$	<p>6.</p>  $\begin{array}{r} 4 \\ + 2 \\ \hline \square \end{array}$

LINGKARI AKU

Petunjuk : Lingkarilah angka yang **PALING KECIL** jumlahnya pada tiap kotak!

Contoh:



1.	8	9	2.	12	9
3.	6	3	4.	5	7
5.	18	14	6.	13	15
7.	7	8	8.	17	19
9.	2	1	10.	14	13
11.	3	4	12.	18	14
13.	10	13	14.	4	5
15.	17	12	16.	16	15
17.	12	20	18.	19	12
19.	10	11	20.	9	6